

**ВСЕРОССИЙСКАЯ ОЛИМПИАДА ШКОЛЬНИКОВ
ПО ИСТОРИИ. ШКОЛЬНЫЙ ЭТАП. 5 КЛАСС.
2020-2021 УЧЕБНЫЙ ГОД**

**Время выполнения: 45 минут
Общее количество баллов - 100**

Задание 1. (2 балла за каждый правильный ответ, максимальный балл – 12 баллов)

Расположите исторических деятелей в хронологической последовательности их деятельности. Ответ внесите в таблицу в виде последовательности букв.

- А) Леонардо да Винчи
- Б) Ярослав Мудрый
- В) Юрий Гагарин
- Г) Екатерина Вторая
- Д) хан Батый
- Е) Дмитрий Пожарский

Ответ

--	--	--	--	--	--

Задание 2. (2 балла за каждый правильный ответ, максимальный балл - 16)

Соотнесите предметы быта древних людей, связанные с одним родом занятий. Укажите это занятие. Свой ответ запишите в таблицу.

- | | | |
|----------------|-----------|--|
| А. Зерноотерка | 1. Печь | |
| Б. Стрела | 2. Серп | |
| В. Горшок | 3. Силки | |
| Г. Топор | 4. Гвоздь | |

Буквы	Цифры	Род занятий

Задание 3. (2 балла за каждый правильный ответ, максимальный балл – 10)

Расставьте даты в верной хронологической последовательности.

- 1) 573 год до Р.Х.
- 2) X век до н.э.
- 3) XVII век н.э.
- 4) 1572 год н.э.
- 5) 6556 год от Сотворения мира

Ответ.

--	--	--	--	--

Задание 4. (2 балла за каждый правильный ответ, максимальный балл – 8)



**Верны ли следующие утверждения о представленном изображении («да» – «нет»)?
Ответы внесите в таблицу.**

1. Учёные, к которым относится изображённый на иллюстрации человек, занимаются поиском останков первобытных людей.
2. Учёные – коллеги изображённого человека изучают только первобытную эпоху.
3. На заднем фоне изображено жилище первобытного человека.
4. Профессия учёного, изображенного на рисунке - архивист

Ответ

1	2	3	4

Задание 5. (6 баллов за правильное решение каждой задачи, если написан только ответ – 3 балла. Максимальный балл – 12)

Решите задачи. Обязательно приведите необходимые расчёты. Для удобства нарисуйте «линию времени».

А. В 1900 г. археологами был раскопан могильник вождя, где найдены остатки бус из драгоценных камней, золотые и серебряные сосуды. Установлено, что захоронение было сделано 7240 лет назад. В каком году был захоронен вождь?

Б. Известно, что фараон XVIII династии Аменхотеп IV (позднее Эхнатон) был автором самой известной религиозной реформы Древнего Египта. На 3-м году своего правления (приблизительно в 1350 г. до н.э.) он начал строительство храма нового бога – Атона. Несмотря на сильное сопротивление жречества и других слоёв населения, культ Атона просуществовал до воцарения Тутанхамона, вернувшегося в старую столицу и восстановившего почитание древних богов, приблизительно в 1329 г.

1. Сколько лет просуществовал культ Атона?
2. Сколько лет назад Тутанхамон вернулся в Мемфис и к традиционной религии?

Задание 6. (2 балла за каждый правильный ответ, максимальный балл – 12)

Соотнесите названия одомашненных человеком животных и пользу, которую они приносили. Обратите внимание, что одно и то же животное могло быть полезно человеку в разных случаях. Свой ответ оформите в виде таблицы.

Животные: собака, кошка, лошадь, корова.

Как использовалось	Название животного
Помощь на охоте	
Средство передвижения	
Получение продуктов питания	
Охрана жилища	
Борьба с грызунами	
Обработка земли	

Задание 7. (Максимальный балл - 13 баллов)

Перед Вами отрывок из известного литературного произведения, описывающий жизнь первобытного человека. Ответьте на вопросы. Ответ запишите.

Даже в самые тяжелые времена поддерживали они в нем жизнь, охраняли его от непогоды и наводнений, переносили его через реки и болота; синеватый при свете дня и багровый ночью, он никогда не расставался с ними. Его могучее лицо обращало в бегство львов, пещерного и серого медведей, мамонта, тигра и леопарда. Его красные зубы защищали человека от обширного страшного мира; все радости жили только около него! Он извлекал из мяса вкусные запахи, делал твердыми концы рогатин, заставлял трескаться камни, он подбадривал людей в дремучих лесах, в бесконечной саванне, в глубине пещер. Это был отец, страж, спаситель; когда же он вырывался из клетки и пожирал деревья, он становился более жестоким и диким, чем мамонты.

- 1) О каком достижении первобытных людей говорится в отрывке? (2 балла)

Ответ:

2) Что давало это достижение людям? (5 балла)




Ответ:

3) Почему это достижение могло представлять опасность, быть «более жестоким, чем мамонты»? (6 балла)

Ответ:

Задание 8. (Максимальный балл - 8 баллов).

Расположите в правильной последовательности изображения древних людей.



Ответ

--	--	--	--

Задание 9. (По 3 балла за каждый верный ответ. Максимум за задание – 9 баллов)

Рассмотрите карту и выполните предложенные задания.



9.1. Укажите цифру, которой обозначен древнейший земледельческий район в истории человечества.

Ответ. _____

9.2. Укажите цифру, которой обозначено место расположения пещеры Ласко, в которой были найдены наскальные изображения животных.

Ответ. _____

9.3. Укажите цифру, которой обозначено место, где Луис Лики нашёл останки древнейшего первобытного человека.

Ответ. _____

ВСЕГО 100 БАЛЛОВ.

